

7.SINIF

BURSLULUK SINAVI



Adı Soyadı :

Okulu :

Sınıf / No :

Sınav / No :

1. "Anlattıkları şiiir gibiydi." cümlesindeki altı çizili sözün cümleye kattığı anlam aşağıdakilerden hangisidir?

- A) Duygulu B) Duyarlı
C) Yararlı D) Çok güzel

2. Aşağıdaki ikilemelerden hangisi cümleye "yaklaşık olarak" anlamı katmıştır?

- A) Merdivenleri yavaş yavaş çıktı.
B) Kıymetini er geç anlayacaklar.
C) Bu eve aşağı yukarı bir ay önce taşındık.
D) Kazanmak için gece gündüz çalıştı.

3. Aşağıdaki seçeneklerin hangisinde "iyi" kelimesinin anlamıyla kullanımı birbirine uymamaktadır?

Anlamı	Kullanım
A) Beğenilen	Karşılaştığım en iyi öğretmensiniz.
B) Bol	Yağmur iyi yağdı.
C) Uğurlu	Ne söylediklerini iyi hatırlamıyorum.
D) Sağlık	Doktor annemin iyi olduğunu söyledi.

4. Aşağıdaki cümlelerin hangisinde zaman (anlam) kayması vardır?

- A) Dişlerimi her gece fırçalıyorum.
B) Maçlar yarın başlayacak.
C) Çocuk durmadan ağlıyordu.
D) Her pazar balığa gideriz.

5. Dağıttığın oyuncakları çabuk topla!

Yukarıdaki cümlede altı çizili fiil hangi kipte çekimlenmiştir?

- A) Emir kipi
B) Gereklilik kipi
C) Şart kipi
D) Gelecek zaman kipi

6.

1. Grup	2. Grup
sağ	geri
ileri	arka
aşağı	yaşlı
ön	sol

Yukarıdaki tabloda zıt anlamlı kelimeler eşleştirilirse hangisi dışta kalır?

- A) sağ B) ileri C) aşağı D) ön

7. İřitin ey yarenler
Ařk bir güneře benzer
Ařkı olmayan gönöl
Misali tařa benzer

Bu dizelerde "kendisine benzetilen" ögeler ařağıdakilerden hangisidir?

- A) Ařk, güneř B) Güneř, tař
C) Gönöl, ařk D) Gönöl, tař

8. O gün bugün, hep sessiz ağılařır geceler
Ruhumla bir dost gibi anlařırlar geceler

Bu dizelerde görölen söz sanatları ařağıdakilerden hangisidir?

- A) Kiřileřtirme - Benzetme
B) Abartma - Benzetme
C) Konuřturma - Kiřileřtirme
D) Benzetme - Konuřturma

9. "Güneř bugün de yüzünü göstermedi." cümlesinde görölen söz sanatı ařağıdakilerden hangisidir?

- A) Kiřileřtirme B) Benzetme
C) Abartma D) Konuřturma

10. Ařağıdaki cümlelerin hangisinde zarf yoktur?

- A) Seçtiğimiz fotoğraflara göz atıyorduk.
B) O günleri hatırladıkça mutlu oluyorum.
C) Hediyeleri görünce yüzü güldü.
D) Doęayı koruyunca saęlıęımızı da korumuř oluyoruz.

1. $(36-4) : (2-6)$

Yukarıda verilen işlemdeki parantezler kaldırılırsa işlemin sonucu ilk duruma göre nasıl değişir?

- A) 16 artar B) 36 artar
C) 16 azalır D) 36 azalır

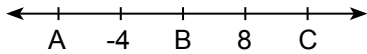
2.

$$x^3 = -27 \qquad y^3 = 64$$

Yukarıda verilen eşitliklere göre, x^y ifadesinin değeri aşağıdakilerden hangisidir?

- A) -64 B) 64 C) -81 D) 81

3.



Yukarıda verilen sayı doğrusu eş bölmelere ayrılmıştır.

Buna göre; $A:B + C:B$ işleminin sonucu aşağıdakilerden hangisidir?

- A) -8 B) 8 C) -2 D) 2

4. Aşağıda verilen rasyonel sayılardan hangisi -4 ile -3 arasında bir değere sahiptir?

- A) $-\frac{19}{4}$ B) $-\frac{15}{7}$ C) 3,42 D) $-\frac{38}{11}$

5.

$$3,8\bar{2}, \quad 3,8\bar{2}, \quad 3,82$$

sayılarının büyükten küçüğe doğru sıralanışı aşağıdakilerden hangisinde verilmiştir?

- A) $3,8\bar{2} < 3,8\bar{2} < 3,82$
B) $3,8\bar{2} < 3,82 < 3,8\bar{2}$
C) $3,82 < 3,8\bar{2} < 3,8\bar{2}$
D) $3,82 < 3,8\bar{2} < 3,8\bar{2}$

6. $\frac{3}{5} : (-\frac{1}{10})$

İşleminin sonucu aşağıdaki rasyonel sayılardan hangisi ile çarpılırsa sonuç 1 olur?

- A) -6 B) 6 C) $-\frac{1}{6}$ D) $\frac{1}{6}$

7. $(1-\frac{1}{2})\cdot(1-\frac{1}{3})\cdot(1-\frac{1}{4})\cdots(1-\frac{1}{100})$

Yukarıdaki işlemin sonucu kaçtır?

- A) $\frac{1}{100}$ B) $\frac{1}{99}$ C) $\frac{1}{98}$ D) $\frac{1}{96}$

8. $1:(5-\frac{1}{2}\cdot\frac{5}{3})-1$

İşleminin sonucu kaçtır?

- A) $\frac{19}{25}$ B) $-\frac{13}{6}$ C) $\frac{19}{6}$ D) $\frac{13}{2}$

9. $\frac{\frac{3}{5}\cdot\frac{5}{3}}{\frac{2}{5}\cdot\frac{5}{2}}$

İşleminin sonucu aşağıdakilerden hangisidir?

- A) $-\frac{32}{63}$ B) $-\frac{5}{6}$ C) $\frac{5}{6}$ D) $\frac{32}{63}$

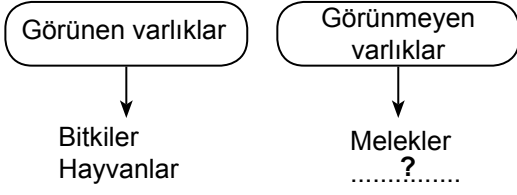
10. Ahmet bir kitabın 1.gün $\frac{1}{7}$ ' ini okuyor. Kitabın kalanını 6 günde her gün eşit miktarda olacak şekilde okumayı planlıyor.

Buna göre, Ahmet 5.günün sonunda kitabın kaçta kaçını okumamış olur?

- A) $\frac{1}{7}$ B) $\frac{2}{7}$ C) $\frac{3}{7}$ D) $\frac{5}{7}$

ÖRNEKTİR

1.



Verilen bilgilere göre, şemada “?” ile gösterilen yere aşağıdakilerden hangisi getirilemez?

- A) Akıl
B) Cinler
C) Şeytan
D) Gökyüzü

2. İki melek (insanın) sağında ve solunda oturarak yaptıklarını yazmaktadırlar. Her ne söz söylese, mutlaka yanında gözetleyen biri vardır. (Kâf suresi, 17 ve 18.ayetler)

Yukarıdaki ayetleri öğrenen bir öğrencinin aşağıdaki davranışlardan hangisini yapması beklenmez?

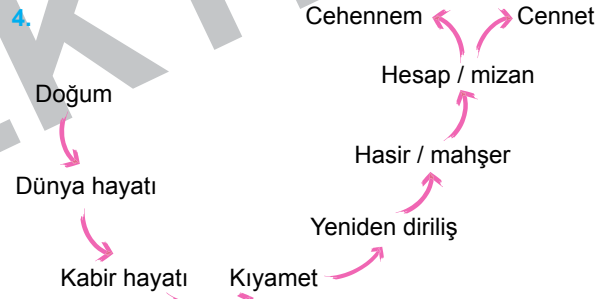
- A) Yarışta kendisini geçmeye çalışan arkadaşına çelme takması
B) Okul bahçesinde bulduğu bir kalemi öğretmenine teslim etmesi
C) Oyun oynarken düşen arkadaşının elinden tutarak kalkmasına yardım etmesi
D) Kimseyi incitmemeye çalışması

3. Ahiret inancına sahip bir insan, öldükten sonra hesaba çekileceğine inandığı için, insanlara karşı iyi davranışlar sergilemeye çalışır.

Buna göre ahirete inanan bir kişide aşağıdaki hâl ve davranışlardan hangisinin olması beklenmez?

- A) Sürekli sıkıntılı ve ümitsiz olması
B) Sorumluluk duygusu ile hareket etmesi
C) Adaletli davranılması
D) Yalan söylememeye çalışması

4.



Verilen görsel aşağıdaki hangi iman esası ile ilişkilendirilir?

- A) Peygambere iman
B) Kitaplara iman
C) Ahirete iman
D) Kadere iman

5. Bazı ibadetler ramazan ayı ile özdeşleşmiştir.

Aşağıdakilerden hangisi ramazan ayı ile özdeşleşen ibadetlerden değildir?

- A) Teravih namazı
B) Sabah namazı
C) Oruç
D) Fitre

1.

Üç ayrı besini sindirebilen enzim içerir.



Yukarıda Ayda öğretmenin görevini söylediği yapı aşağıdakilerden hangisidir?

- A) Mide öz suyu B) Pankreas özsuğu
C) Tükrük D) Safra sıvısı

2.

K →

Besinleri karıştırır çevirir ve yutağa iter.

L →

Besinlerin mekanik sindirimini gerçekleştirir.

M →

Sindirim enzimi içerir.

Yukarıda ağzın içerdiği sindirim yapılarının görevleri verilmiştir.

Buna göre K, L, M hangi şıkta doğru verilmiştir?

- | <u>K</u> | <u>L</u> | <u>M</u> |
|----------|----------|----------|
| A) Diş | Tükrük | Dil |
| B) Dil | Tükrük | Diş |
| C) Dil | Diş | Tükrük |
| D) Diş | Dil | Tükrük |

3. Aşağıdaki sindirim sistemine ait organlardan hangilerinde sindirim gerçekleşmez?

- A) Mide - Ağız
B) Yemek borusu - Kalın bağırsak
C) İnce bağırsak - Mide
D) Mide - Yemek borusu

4.



Sindirimi ağızda başlar, ince bağırsakta biter.



Sindirimi için gerekli olan enzimler mide ve pankreastan salgılanır.



Sindirimi ince bağırsakta başlar, ince bağırsakta biter.

Yukarıda verilen sembollerde ifade edilen sindirim ürünleri hangi şıkta doğru verilmiştir?

- | <u>▲</u> | <u>●</u> | <u>■</u> |
|-----------------|--------------|--------------|
| A) Karbonhidrat | Yağ | Protein |
| B) Yağ | Karbonhidrat | Protein |
| C) Karbonhidrat | Protein | Yağ |
| D) Yağ | Protein | Karbonhidrat |

5.

Organ
Mide

Görevleri

Yapısında bulunan bazı bakteriler B ve K vitaminlerini üretir.

İnce bağırsak

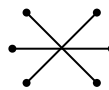
Yağların fiziksel ve kimyasal sindirimini yaptırdığı organdır.

Kalın bağırsak

Yapısındaki kaslar yardımıyla besinleri mideye iletir.

Yukarıda bazı organların görevleri verilmiştir. Karşılıklı eşleşme yapıldığında hangisi doğru olur?

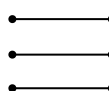
A)



B)



C)



D)



6. I. Araba veya bisiklet sürmek

II. Bir çocuğun uykusunun gelmesi

III. Bir bireyin öksürmesi

IV. Yeni doğan bebeğin emme hareketi

Yukarıdaki verilenlerden hangisi refleks davranışlara örnek verilebilir?

A) I ve II

B) II, III ve IV

C) I, III ve IV

D) Hepsi

7. Aşağıdaki duyu organlarından hangisinde almaç hücrelerinin yoğun bulunduğu yapı yanlış verilmiştir?

A) Burun → Sarı bölge

B) Kulak → Salyangoz

C) Dil → Tat tomurcukları

D) Göz → Kornea

8.



Denetleyici ve düzenleyici sistemler ile ilgili aşağıdaki açıklamalardan hangisi yanlış bilgi içerir?

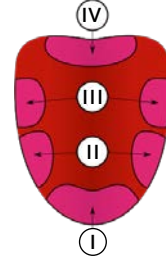
A) İç salgı sistemi

B) Merkezi sinir sistemi

C) Çevresel sinir sistemi

D) Refleks hareketleri

9.



Dilin tat algılayan kısımları numaralandırılmıştır.

Aşağıda verilen ifadelerden hangisi yanlıştır?

A) I - Acı

B) III - Ekşi

C) II - Tuzlu

D) IV - Acı

10.

Göz

Sarı bölge

Kulak

Salyangoz

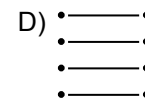
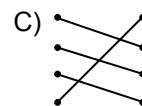
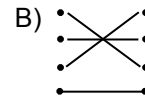
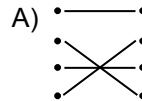
Burun

Sarı leke

Dil

Tat tomurcuğu

Duyu organları ile almaç hücrelerinin bulunduğu bölümlerin doğru eşleştirmesi aşağıdakilerden hangisi olur?



1. Ona baktığımda yüzünden herşeyi anlayabiliyordum, konuşurken de hissettiklerini vücut hareketleri ile güçlendiriyordu.

Yukarıda etkili olan iletişim tekniği aşağıdakilerden hangisidir?

- A) Sen dili B) Ben dili
C) Empati kurma D) Beden dili

2. Ülkemizde Tv ve Radyo kanallarını düzenlemek ve denetlemek amacı ile kurulmuştur?

Yukarıda boş bırakılan yere aşağıdakilerden hangisi getirilmelidir?

- A) Anadolu Ajansı B) Bilgi İşlem Müdürlüğü
C) RTÜK D) İrade-i Milliye

3. Osmanlı beyliği bağımsızlığını ilan ettiğinde Anadolu'da güçlü bir devlet yoktu. Bölgede birçok beylik ortaya çıkmıştı. Bizans Devleti ise bir yandan Bulgar ve Sırp saldırıları ile uğraşırken diğer yanda "Tekfur" adı verilen Bizans valilerinin başına buyruk hareketleri ile zor duruma düşmüştü. Bu ortamda Osmanlı Beyliği kısa sürede büyüyerek bir devlet haline geldi.

Yukarıdaki bilgiye bakarak Osmanlı devletinin kısa sürede büyümesinde aşağıdakilerden hangisi etkili olmamıştır?

- A) Osmanlı - Bizans ittifakının gerçekleşmesi
B) Bizans devletinde merkezi otoritenin bozulması
C) Anadolu'da siyasi birliğin olmayışı
D) Bizans tekfurlarının bağımsız davranmaları

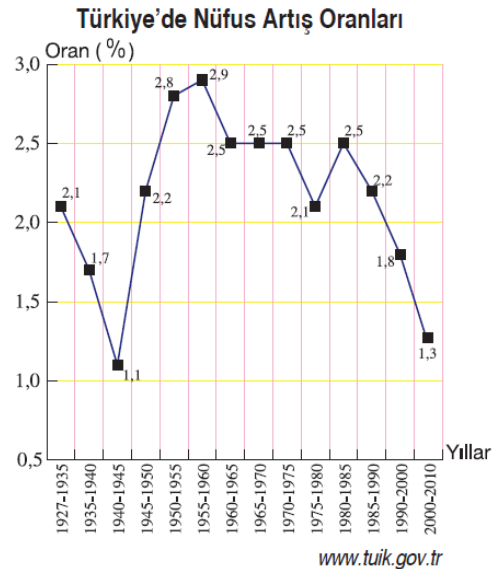
4.



Yukarıda numaralandırılmış bölgelerin hangisinin sık nüfuslanmasında turizm faaliyeti etkili olmuştur?

- A) I B) II C) III D) IV

5. Aşağıdaki grafikte yıllara göre Türkiye'nin nüfus artış oranı verilmiştir.



Buna göre, 1935 - 1945 yılları arasında nüfus artış hızının düşmesinde aşağıdakilerden hangisi etkili olmuştur?

- A) Birinci Dünya Savaşı B) İkinci Dünya Savaşı
C) Yurt dışına işçi göçleri D) Ekonomik yatırımlar


1. Helen : Why don't you believe Jack?

Sophie : Because he never

Yukarıdaki diyalogta boş bırakılan yere aşağıdaki ifadelerden hangisi gelmelidir?

- A) shares my photos
- B) forgets his homework
- C) tells me the truth
- D) stays at home and watch TV

2.



Yukarıdaki diyalogta verilen boşluğa aşağıdakilerden hangisi gelmelidir?

- A) handsome
- B) polite
- C) slim
- D) tall


3. Thomas : What is your favourite sport?

Susan : It is _____

Yukarıdaki boşluğa aşağıdakilerden hangisi gelemez?

- A) cycling
- B) skiing
- C) football
- D) score

4.



Yukarıdaki boşluklara gelebilecek kelimeler hangisinde doğru olarak verilmiştir?

- A) were / at
- B) is / in
- B) does / on
- D) was/ in

5.

I got up early to go to out of the town yesterday.I met with my friends in the city center. We went the cinema and had lunch together. It was an amazing day for me.



George'nin anlattığına göre aşağıdaki sorulardan hangisinin cevabı parçada yoktur?

- A) What time did George get up?
- B) What did George do yesterday?
- C) Was the day beautiful?
- D) Where did George go yesterday?

ÖRNEKTİR