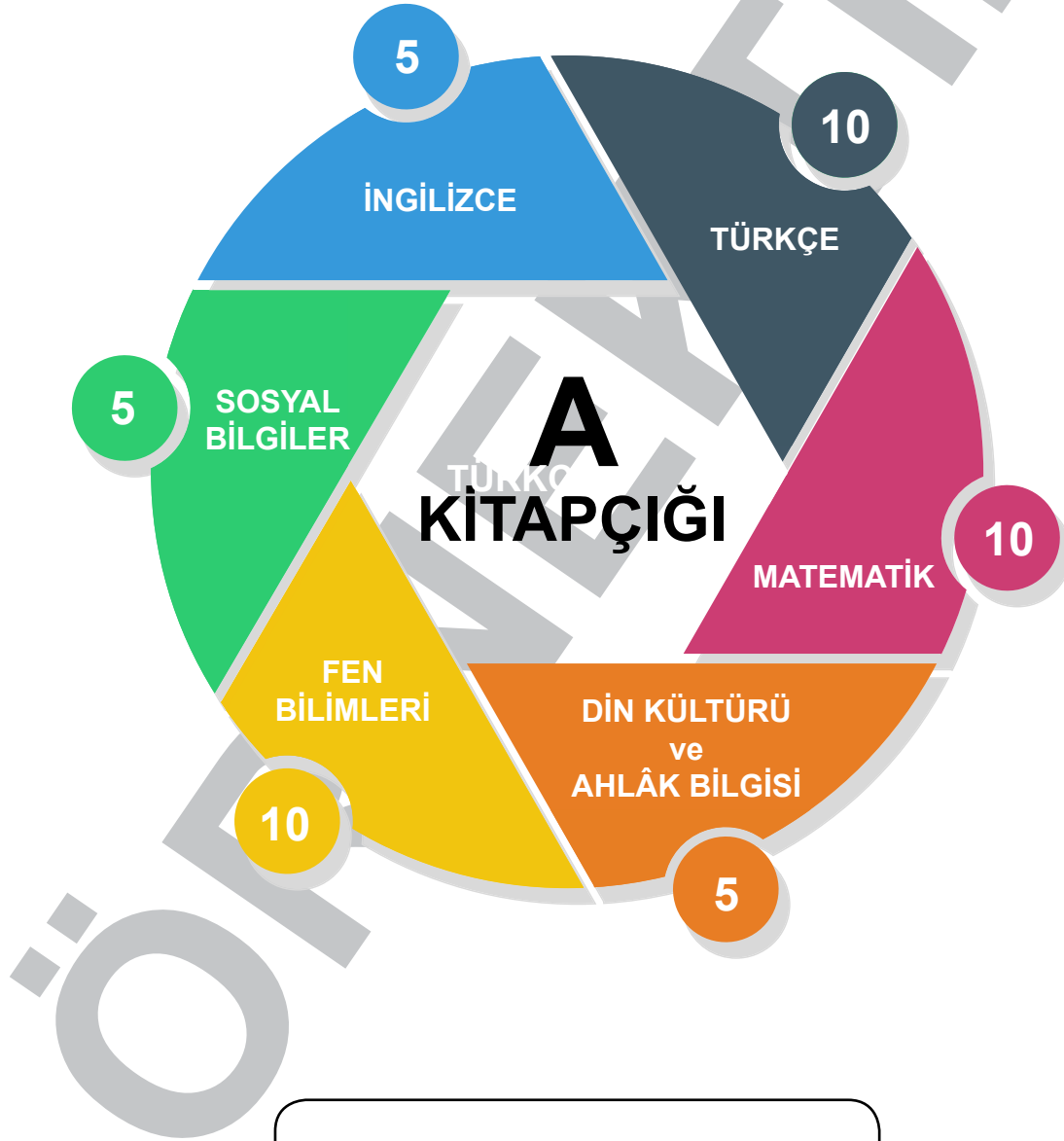


# 5.SINIF

BURSLULUK SINAVI



Adı Soyadı :

Okulu :

Sınıf / No :

Sınav / No :

1.



Değerini bilmediğimiz o günlere yanar dururuz.

Yukarıdaki cümlede altı çizili sözcüğün kullanıldığı anlam aşağıdakilerin hangisinde yoktur?

- A) Olay sırasında söyledikleri hepimize dokundu.
- B) Boş sözlerle hepimizi oyaladı.
- C) Elindeki kitabı masanın üzerine bıraktı.
- D) Dışarıdan keskin kokular geliyordu.

2. "Gökyüzü, masmavi deniz gibi bu akşam."

Yukarıdaki cümlede virgülün görevi aşağıdakilerden hangisidir?

- A) Özneyi belirtmiştir.
- B) Hitap sözünü ayırmıştır.
- C) Sıralı cümleleri birbirinden ayırmıştır.
- D) Eş görevli sözcükleri ayırmıştır.

3. Aşağıdaki cümlelerin hangisinde "koşul (şart)" anlamı vardır?

- A) Gece oldu, sokak ışıkları yandı.
- B) Umutsuz bir sesle olanları anlatıyor.
- C) Vazgeçersen aştığın engellerin bir değeri kalmayacak.
- D) Evin duvarlarında canlı renkler kullanılmış.

4. Kara gecede bir tek yıldız bile yoktu.

1 2 3 4

Yukarıdaki cümlede altı çizili sözcüklerin hangisi sestestir?

- A) 1
- B) 2
- C) 3
- D) 4

5. (1) Şiir, duygu ve düşüncelerin dizelere aktarılmasıdır. (2) Bence şiir edebi türlerin en duygusudur. (3) Duygularımızı dizelere dökerek kendimizi ifade edebiliriz. (4) Kimi insanlar bunu severek yapar kimi insanlar da duygularını dile getirmekten kaçar.

Yukarıdaki cümlelerin hangisinde bir tanımlama yapılmıştır?

- A) 1
- B) 2
- C) 3
- D) 4

6. “Bir eseri, ayrıntılı bir şekilde incelememiz eser hakkında doğru bilgiler edinmemizi sağlar.”

Yukarıdaki cümlede altı çizili sözün cümleye kattığı anlam aşağıdakilerden hangisidir?

- A) Etraflıca incelemek  
B) Yalın bir dil kullanmak  
C) Halkın sorunlarını işlemek  
D) Okur tarafından çok beğenilmek

7. Aşağıdaki cümlelerin hangisinde öznel bir anlam vardır?

- A) Türkiye, Avrupa Birliği'ne girebilmek için çeşitli girişimlerde bulundu.  
B) Son romanında kadın psikolojisini işlemiştir.  
C) Şiirlerindeki duygu, okuyan herkesi etkiler.  
D) At, ilk defa Anadolu'da evcilleştirilmiştir.

8. “Sakla samanı gelir zamanı.” atasözünün anlamına en yakın atasözü aşağıdakilerden hangisidir?

- A) Ev alma komşu al.  
B) Ak akçe kara gün içindir.  
C) Öfkeyle kalkan zararlar oturur.  
D) Üzüm üzüme baka baka kararır.

9. Bir gün aslan hayvanları toplamış ( ) ( ) Benim yönetimimde kimsenin burnu kanamayacak ve kimse kimseye ilişmeyecek ( ) ( ) demiş.

Bu parçada yay ayraçla gösterilen yerlere sırasıyla aşağıdaki noktalama işaretlerinden hangileri getirilmelidir?

- A) (.) (:.) (.) (.) B) (:.) (.) (:.) (.)  
C) (.) (.) (.) (.) D) (:.) (“) (.) (“)


10. Aşağıdakilerden hangisinde “burun” sözcüğü deyim içinde kullanılmamıştır?

- A) Her şeye burnunu sokar.  
B) Biraz burnu sürtülse iyi olur.  
C) Burnunun ucunu göremeyen bir insandı.  
D) Burun ameliyatı başarılı geçti.

1. 3, 7, 0, 5, 2, 8, 1 rakamlarını birer kez kullanarak oluşturulabilecek en büyük sayının binler bölümündeki sayısı kaçtır?

A) 875 B) 753 C) 532 D) 210


2.



Noktalarla oluşturulmuş yukarıdaki örüntünün bir sonraki adımında kaç tane nokta vardır?

A) 12 B) 13 C) 14 D) 15

3.



Dairelerle oluşturulmuş yukarıdaki şeklin bir sonraki adımında kaç tane daire vardır?

A) 15 B) 14 C) 13 D) 12

4. Evine beyaz eşya ürünleri almak isteyen Ülkü Hanım bunun için 7000 lira bütçe ayırmıştır. Gittiği bir mağazada Ülkü Hanım'a aşağıdaki fiyat listesi verilmiştir.

Ürün	Fiyat (lira)
Buzdolabı	4350
Çamaşır makinesi	2730
Bulaşık makinesi	1980

Buna göre, Ülkü Hanım'ın bu ürünleri alabilmek için kaç liraya daha ihtiyacı vardır?

A) 1060 B) 1960 C) 2040 D) 2060

5.  $4302 + 5359$

Yukarıda verilen işlemin sonucunu ilke toplananları en yakın onluğa, Eda en yakın yüzlüğe yuvarlayarak tahmin ediyor.

Buna göre, iki arkadaşın tahminleri arasındaki fark kaçtır?

A) 40 B) 50 C) 70 D) 140

6.

	A kırtasiyesi	B kırtasiyesi
Kalem	5 tane 10 lira	6 tane 14 lira
Silgi	4 tane 3 lira	3 tane 1 lira

Yukarıda tabloda iki kırtasiyedeki aynı ürünlerin fiyatları gösterilmiştir.

**30 tane kalem ve 12 tane silgi için en az kaç lira ödeme yapmak gerekir?**

- A) 74      B) 69      C) 64      D) 60

7. Anneler gününde annesine hediye almak isteyen Elif'in 200 liraya ihtiyacı vardır. Bu iş için Elif her hafta 14 lira para biriktirmektedir.

**12 haftanın sonunda Elif'in ne kadar daha paraya ihtiyacı kalmıştır?**

- A) 12      B) 22      C) 32      D) 42

8. 9 katlı bir iş merkezinin her katında 9 tane daire vardır.

**Buna göre, bu iş merkezinde toplam kaç daire vardır?**

- A) 18      B) 36      C) 54      D) 81

9.

- a)  $(11+4) \times 3$       I) 2  
b)  $70 - (17 \times 4)$       II) 14  
c)  $5^2 + 2^2$       III) 45  
d)  $(6 \times 4) \div 2^3$       IV) 29  
V) 3

**Yukarıda verilen işlemler ile sonuçlar eşleştirildiğinde hangi numara boşta kalır?**

- A) II      B) III      C) IV      D) V

10. Bir gömlek mağazasında satış elemanı olarak çalışan Özlem tanesi 24 lira olan gömleklerden hergün aynı sayıda satarak toplam 312 lira gelir elde etmiştir.

**Buna göre, Özlem'in günlük sattığı gömlek sayısı kaçtır?**

- A) 12      B) 13      C) 14      D) 15

1. “ De ki: Hiç bilenlerle bilmeyenler bir olur mu? Doğrusu ancak akıllı sahipleri bunu düşünüp anlar.” (Zümer Suresi, 9.ayet)

**Bu ayette aşağıdakilerden hangisi vurgulanmaktadır?**

- A) İnsanlara merhametle davranılmalıdır.  
B) Çevreyi korumaya teşvik edilmelidir.  
C) Çalışmaya teşvik edilmelidir.  
D) Bilgi sahibi olmaya gayret edilmelidir.

2. Allah'ın zati sıfatları \_\_\_\_\_ özelliklerdir.  
Allah'ın subûti sıfatları \_\_\_\_\_ özelliklerdir.

**Yukarıdaki boşluklara aşağıdakilerden hangisi getirilmelidir?**

- | <u>1</u>   | <u>2</u>   |
|--|--|
| A) Sadece Allah'a ait olan                       | Allah'ta sınırsız insanda sınırlı olarak bulunan |
| B) Allah'ta sınırsız ama insanda sınırlı bulunan | Allah'ta sınırlı insanda sınırsız                |
| C) İnsanda sınırsız Allah'ta sınırlı             | Allah'ta sınırsız insanda da sınırsız            |
| D) Sadece Allah'a ait olan                       | Allah'ta sınırsız insanda sınırsız olan          |

3. **Aşağıda verilen bilgilerden hangisi yanlıştır?**

- A) Allah diridir ve uyumaz.  
B) Allah her şeyi görür.  
C) Bütün kainatı Allah yaratmıştır.  
D) Allah her şeyi bilmez.

4. **Aşağıdaki hadislerden hangisi konusu bakımından diğerlerinden farklıdır?**

- A) “Bizi aldatan bizden değildir.”  
B) “Hiç kimse kendi elinin emeği ile kazandığından daha hayırlı bir lokma yememiştir.”  
C) “Çalışınız, kendinizi bırakmayınız. Çünkü herkes ne iş için yaratılmışsa, o iş kendisine kolay hâle getirilir?”  
D) “İki günü birbirine eşit olan kişi zarar içindedir.”

5. **Aşağıdaki kelimelerden hangisi ihlâs suresinde geçen “ehad” sözcüğünün karşılığıdır?**

- A) Muhtaç olmayan  
B) Doğuran  
C) Allah'ın yaratması  
D) Allah'ın bir olması

1. Güneş ile ilgili aşağıda verilenden hangisi doğrudur?

- A) Dünya'ya en yakın gök cisimidir.
- B) Güneş'in katmanları yoktur.
- C) Güneş sabittir, hareket etmez.
- D) Güneş orta büyüklükte bir yıldızdır.

2. Ay ile ilgili aşağıda verilenlerden hangisi yanlıştır?

- A) Atmosferi yoktur.
- B) Ayda rüzgar, yağış gibi hava olayları gözlenmez.
- C) Ay hem kendi hem de Dünya etrafında döner.
- D) Isı ve ışık kaynağıdır.

3. • Dolunay evresinden bir hafta sonra gerçekleşir.

• Ay'ın Dünya'ya bakan kısmının sol yarısı aydınlık görünür.

• Görünümü  şeklindeki gibidir.

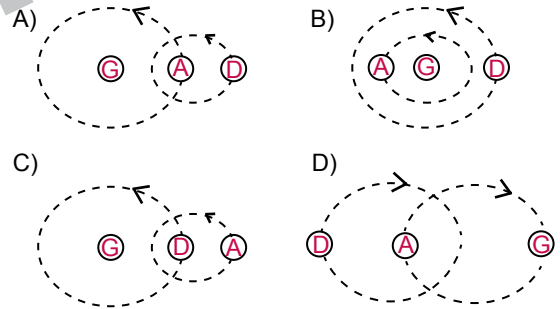
Yukarıda verilen bilgi Ay'ın hangi evresine aittir?

- A) Yeni Ay
- B) İlk dördün
- C) Son dördün
- D) Hilâl

4. Ay'ın Dünya ile Güneş arasına girdiğinde oluşan, Dünya'dan bakıldığında görünmeyen Ay evresi aşağıda verilenlerden hangisidir?

- A) Hilâl
- B) Son dördün
- C) Şişkin Ay
- D) Yeni Ay

5. Ay, Dünya ve Güneş'in birbirlerine göre hareketleri aşağıda verilen şekillerden hangisi gibi olur?



6. Güneş ile ilgili aşağıda verilenlerden hangisi doğrudur?

- A) Dünya'ya en uzak gök cisimidir.
- B) Güneş, Dünya etrafında dönen bir yıldızdır.
- C) Güneş, katmanlardan oluşur.
- D) Güneş, Dünya'nın bir uydusudur.

7. I. Eğrelti otu  
II. Çam ağacı  
III. Karayosunu  
IV. Elma ağacı

Yukarıda verilen bitkilerden hangileri çiçeksiz bitkiler grubunda yer alır?

- A) 1 - 2
- B) 1 - 3
- C) 1 - 3 - 4
- D) 1 - 2 - 3

8. Fen bilimleri dersinde öğretmen öğrencilerine mikroskopik canlıların özelliklerini soruyor.



Lena

Yararlı ve zararlı çeşitleri vardır.



Arda

Besinlerin küflenmesine neden olabilir.



Gizem

Üreme özelliği yoktur.

Hangi öğrencilerin verdiği cevap doğrudur?

- A) Arda
- B) Lena - Gizem
- C) Lena - Arda
- D) Arda - Gizem

9. Aşağıdakilerden hangisi mantarlar grubunun özelliği değildir?

- A) Hamurun mayalanmasını sağlar
- B) İnsanlarda hastalığa neden olabilir
- C) Toprağa bağlı yaşarlar
- D) Kendi besinlerini üretirler

10.

Özellik	D/Y
Memeli hayvanlar yavrularını doğurarak dünyaya getirir.	I
Mantarlar kendi besinini üretir.	II
Bitkilerin tamamında çiçek vardır.	III
Kene, ahtapot, toprak solucanı omurgasız hayvanlara örnektir.	IV

Verilen özelliklerin karşısında numaralandırılan kısımlar aşağıdakilerden hangisi gibi olmalıdır?

- A) 

D
Y
Y
D
- B) 

D
D
Y
D
- C) 

Y
Y
D
D
- D) 

D
Y
D
Y



1. Haklarımı öğrenebilirim.
2. Dünyayı tanıyabilirim.
3. Geçmişle günümüz arasında bağlantı kurabilirim.

**Yukarıdakilerden hangileri Sosyal Bilgiler dersinin bize sağladığı yararlandıdır?**

- A) 1 ve 2  
B) 1 ve 3  
C) 2 ve 3  
D) 1, 2 ve 3

2. - Hastalarımı iyileştirmeliyim.

- Toplumun huzurunu ve güvenliliğini sağlamalıyım.
- Yangınlara müdahale ederek zararı en aza indiriyim.

**Yukarıda verilen roller ile meslekler eşleştirildiğinde aşağıdakilerden hangisi boşta kalır?**

- A) Doktor  
B) İtfaiye  
C) Öğretmen  
D) Polis

3. - Cumhuriyet'in ilan edildiği gündür.

- Cumhuriyet Bayramı olarak kutlanır.

**Özellikleri verilen milli bayramımızın kutlama tarihi aşağıdakilerden hangisidir?**

- A) 19 Mayıs  
B) 29 Ekim  
C) 19 Mayıs  
D) 30 Ağustos

4. 1. Edirne'de bulunur.

2. Mimar Sinan tarafından yapılmıştır.

**Yukarıda özellikleri verilen tarihi eser hangisidir?**

- A) Süleymaniye Camii  
B) Kocatepe Camii  
C) Ulu Camii  
D) Selimiye Camii

5. Çevremizde katılabileceğimiz çok sayıda grup vardır.

1. Satranç Klübü
2. İşçi Sendikası
3. Aile bireyi

**Yukarıdaki gruplardan hangilerinde yer alabiliriz?**

- A) Yalnız 1  
B) 1 ve 2  
C) 1 ve 3  
D) 1, 2 ve 3

1. .... your brother like History?

No, .....

**Yukarıdaki boşluğa aşağıdakilerden hangisi getirilmelidir?**

- A) Does / she does not like.
- B) Does / he doesn't.
- C) Do / he likes.
- D) Are / he is not good at.

2. **Özlem:** What are your favourite lessons?

**Anıl:** .....

**Yukarıdaki boşluğa aşağıdakilerden hangisi getirilmelidir?**

- A) Our lessons begin with English and Maths every day.
- B) My favourite lesson is Science.
- C) My favourite lessons are Music and English.
- D) I am good at playing the violin

3. **Özgü:** ..... do you have Maths classes?

**Azra:** On Mondays and Fridays.

**Yukarıdaki boşluğa aşağıdakilerden hangisi getirilmelidir?**

- A) What
- B) What time
- C) When
- D) Which

4.



We ..... at school at 8 o'clock every morning.

**Boşluğa gelmesi gereken fiil aşağıdakilerden hangisidir?**

- A) start
- B) finish
- C) arrive
- D) clean

5. **A:** .....

**B: She cleans the house.**

- A) What does your father do at the weekends?
- B) When does your mother clean the house?
- C) What does your mother do at the weekends?
- D) What do you do at the weekends?

ÖRNEKTİR